

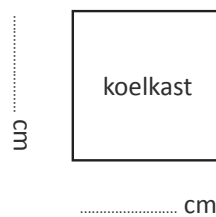
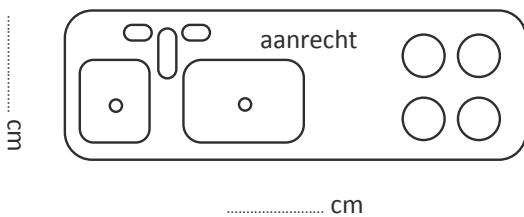
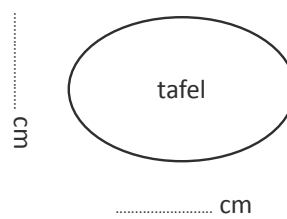
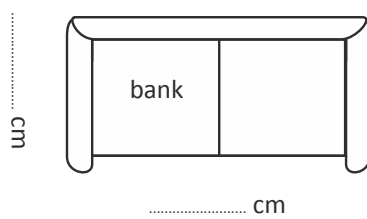
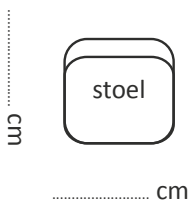
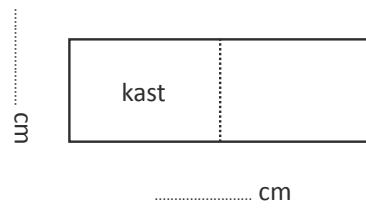
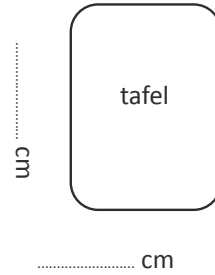
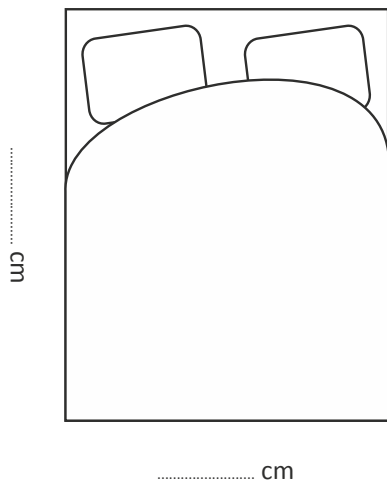
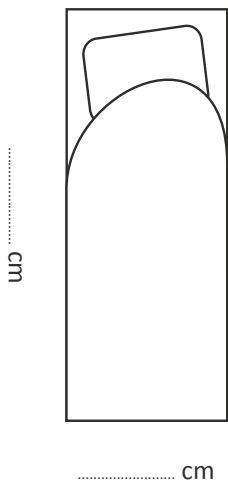
GROEP 5 EN 6

# BLAD 2 Voorwerpen huisje

Namen: \_\_\_\_\_

Dit blad vul je met z'n tweeën in.

1 Jullie weten nu een aantal maten van je eigen lichaam. Gebruik die om te beredeneren hoe groot de voorwerpen in het huisje zullen zijn.



2 Bedenk zelf nog andere voorwerpen die in het huisje zullen staan en schrijf hieronder hun maten op.

\_\_\_\_\_

\_\_\_\_\_

\_\_\_\_\_

\_\_\_\_\_